

Lampiran 1 Tes GEFT

INSTRUMEN GROUP EMBEDDED FIGURE TEST (GEFT)




Nama :
 No. Absen :
 Jenis Kelamin :
 Tempat / Tanggal Lahir :
 Tanggal Tes (hari ini) :
 Alokasi Waktu : 15 Menit

PENJELASAN:
 Tes ini dimaksudkan untuk menguji kemampuan dalam menemukan bentuk sederhana yang tersembunyi dalam suatu pola gambar yang lebih kompleks.

Contoh:
 Gambar berikut merupakan bentuk sederhana yang diberi nama "Y"



Carilah bentuk "Y" dalam gambar kompleks (rumit) di bawah ini.



Jawab:

Perhatikan hal-hal berikut!

1. Soal-soal berikut dibagi menjadi 3 bagian, setiap bagian dikerjakan dalam waktu yang berbeda, rincian waktu masing-masing bagian adalah:
 - a. bagian pertama 3 menit,
 - b. bagian kedua 6 menit, dan
 - c. bagian ketiga 6 menit.
2. Lihat kembali pada bentuk sederhana jika dianggap perlu.
3. Kerjakan soal-soal secara urut, kecuali jika anda benar-benar tidak bisa menjawabnya.
4. Untuk setiap soal, hanya satu saja bentuk yang dibatalkan. Jika Anda melihat lebih dari satu bentuk sederhana yang tersembunyi pada pola gambar yang kompleks (rumit), maka yang perlu diteliti cukup satu saja.
5. Bentuk sederhana yang tersembunyi pada gambar kompleks (rumit) mempunyai *aturan, perbandingan, dan arah menghadap yang sama dengan bentuk sederhana yang diketahui.*

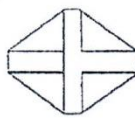
Halaman 2 dari 14

6. Pada halaman-halaman berikutnya, akan ditemukan soal-soal seperti contoh sebelumnya. Pada setiap nomor soal, Anda akan melihat sebuah gambar kompleks (rumit). Kalimat di bawahnya merupakan kalimat yang menunjukkan bentuk yang tersembunyi di dalamnya. Bentuk sederhana yang diminta terdapat pada halaman 4, sedangkan gambar kompleks (rumit) terdapat pada halaman-halaman berikutnya.
7. Jangan membalik halaman sebelum ada perintah.

Jangan membalik halaman sebelum ada instruksi!

Halaman 3 dari 14

BAGIAN PERTAMA



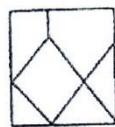
1.

Carilah Bentuk Sederhana 'B'



2.

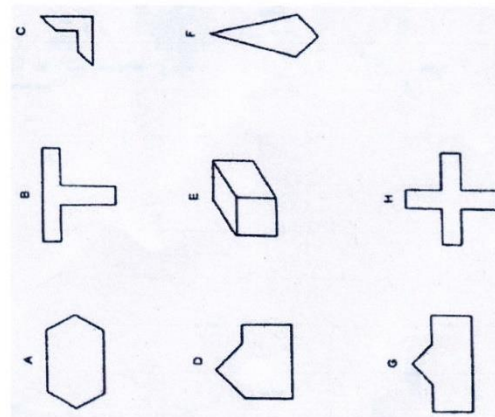
Carilah Bentuk Sederhana 'G'



3.

Carilah Bentuk Sederhana 'D'

Halaman 5 dari 14



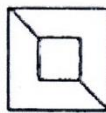
Halaman 4 dari 14

5.



Carilah Bentuk Sederhana 'E'

6.



Carilah Bentuk Sederhana 'C'

7.



Carilah Bentuk Sederhana 'F'

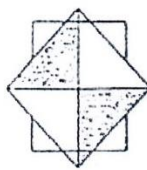
8.



Carilah Bentuk Sederhana 'A'

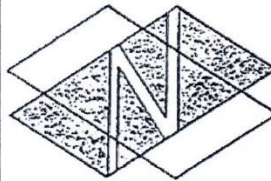
SILAKAN BERHENTI
Jangan menyalahk halaman sebelum ada instruksi

BAGIAN KEDUA



1.

Carilah Bentuk Sederhana 'G'



2.

Carilah Bentuk Sederhana 'A'

Halaman 8 dari 14



3.

Carilah Bentuk Sederhana 'G'



4.

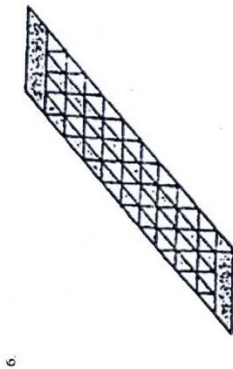
Carilah Bentuk Sederhana 'E'



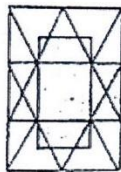
5.

Carilah Bentuk Sederhana 'B'

Halaman 9 dari 14

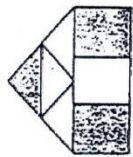


Carilah Bentuk Sederhana 'C'



Carilah Bentuk Sederhana 'E'

Halaman 10 dari 14



Carilah Bentuk Sederhana 'D'

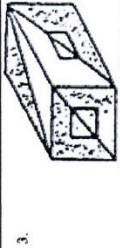
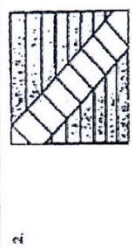
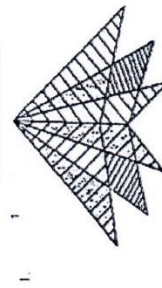


Carilah Bentuk Sederhana 'H'

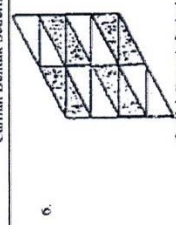

SILAKAN BERHENTI
Jangan membalik halaman sebelum ada instruksi

Halaman 11 dari 14

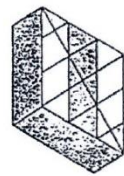
BAGIAN KETIGA



Halaman 12 dari 14



Halaman 13 dari 14



7.

Cariilah Bentuk Sederhana :A'



8.

Cariilah Bentuk Sederhana :C'



9.

Cariilah Bentuk Sederhana :A'

SILAKAN BERHENTI

Halaman 14 dari 14